

MỤC LỤC

HỆ THỐNG ĐỀ ÔN THI CUỐI HỌC KÌ I LỚP 5	TRANG	
	Đề	Đáp án
ĐỀ SỐ 1 (SGK CÁNH DIỀU)	3	16
ĐỀ SỐ 2 (SGK CÁNH DIỀU)	5	18
ĐỀ SỐ 3 (SGK KẾT NỐI TRI THỨC)	7	20
ĐỀ SỐ 4 (SGK KẾT NỐI TRI THỨC)	9	22
ĐỀ SỐ 5 (SGK CHÂN TRỜI SÁNG TẠO)	11	24
ĐỀ SỐ 6 (SGK CHÂN TRỜI SÁNG TẠO)	13	26



A. HỆ THỐNG ĐỀ ÔN THI



ĐỀ SỐ 1

SÁCH CÁNH DIỀU

ĐỀ KIỂM TRA CUỐI HỌC KÌ I

Năm học: 2025 - 2026

Môn: Toán lớp 5

Thời gian làm bài: 40 phút

(Không kể thời gian giao đề)

I. TRẮC NGHIỆM KHÁCH QUAN (4,0 điểm)

Hãy chọn phương án đúng hoặc thực hiện theo yêu cầu

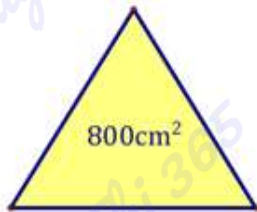
Câu 1. Số thập phân gồm “hai mươi mốt đơn vị, năm phần trăm, ba phần nghìn” được viết là:

- A. 21,53 B. 21,053 C. 21,530 D. 210,53

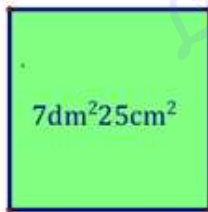
Câu 2. Hỗn số $4\frac{9}{1000}$ được viết dưới dạng số thập phân là:

- A. 4,09 B. 4,99 C. 4,9 D. 4,009

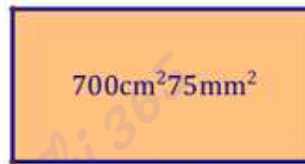
Câu 3. Cho các tấm kính A, B, C, D. Tấm kính nào có diện tích lớn nhất?



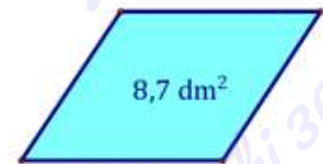
Tấm A



Tấm B



Tấm C



Tấm D

- A. Tấm kính A B. Tấm kính B C. Tấm kính C D. Tấm kính D

Câu 4. Phép tính nào dưới đây có cùng kết quả với phép tính $765,9 \times 0,001$?

- A. $76,59 : 0,01$ B. $0,7659 \times 100$ C. $76,59 : 100$ D. $7659 \times 0,01$

Câu 5. Lớp 5A có 33 học sinh, trong đó có 8 học sinh nữ. Tính tỉ số phần trăm số học sinh nữ so với số học sinh nam lớp 5A?

- A. 25% B. 8% C. 30% D. 32%

Câu 6. Một chặng đua xe đạp xuyên Việt có độ dài 210km. Vẽ trên bản đồ tỉ lệ 1 : 1 000 000, chặng đua đó dài:

- A. 21cm B. 2,1cm C. 12cm D. 10,5cm

Câu 7. Điền dấu “> ; < ; =” thích hợp vào chỗ chấm:

302mm^2 $3\text{dm}^22\text{mm}^2$

3050kg 4 tấn 5 yến