

ÔN TẬP TOÁN LỚP 1

CHỦ ĐỀ 1: SỐ VÀ CẤU TẠO SỐ

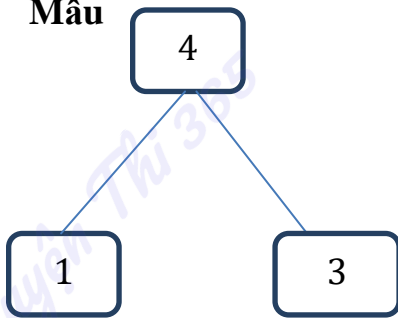
1. Số

0	1				5				10
---	---	--	--	--	---	--	--	--	----

10	9							2	
----	---	--	--	--	--	--	--	---	--

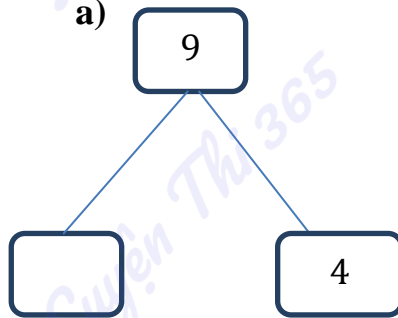
2. Viết (theo mẫu):

Mẫu



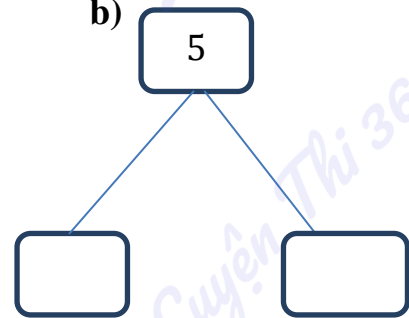
Bốn gồm một và ba

a)



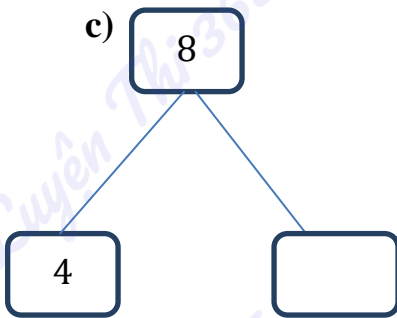
.....

b)



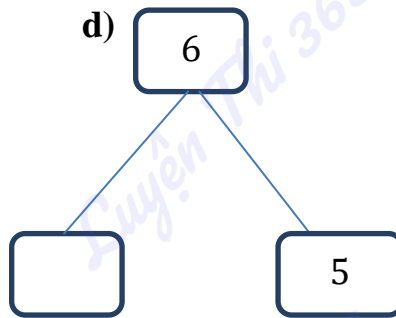
.....

c)



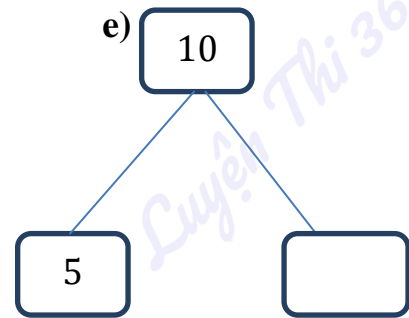
.....

d)



.....

e)



.....

3. Số

a) 4 gồm 2 và.....

d) 9 gồm 5 và.....

h) 7 gồm 4 và.....

l) 3 gồm 1 và.....

b) 5 gồm 4 và.....

e) 6 gồm 3 và.....

i) 10 gồm 6 và.....

m) 8 gồm 4 và.....





c) 8 gồm 3 và.....

g) 5 gồm 2 và.....

a) 10 gồm 2 và.....

a) 9 gồm 1 và.....

4. Viết số vào chỗ chấm:



.....

.....

.....

.....

5. Viết các số:

a) Từ 0 đến 2:

--	--	--

b) Từ 3 đến 5:

--	--	--

c) Từ 6 đến 8:

--	--	--

d) Từ 8 đến 10:

--	--	--

e) Từ 0 đến 10:

--	--	--	--	--	--	--	--	--	--	--

g) Từ 10 đến 0:

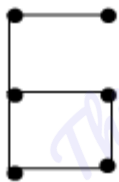
--	--	--	--	--	--	--	--	--	--	--

6*. Đổi chỗ một que diêm trong hình dưới đây:

a) Để được số 6

b) Để được số 9

c) Để được số 0



Số 6

Số 9

Số 0

Em tìm hiểu rồi ghi chữ hoặc số thích hợp vào chỗ chấm:

7. a) Lớp em có.....tổ, là tổ.....
- b) Tổ em cóbạn nữ vàbạn nam.
- c) Số bạn nam trong tổ em.....số bạn nữ.

8*.

a) Mỗi tuần , lớp em học.....môn, là các môn.....

b) Khối lớp 1 trường em có.....lớp, khối lớp 2 có.....,khối lớp 3 có.....lớp, khối lớp 4 có.....lớp và khối lớp 5 có.....lớp.

b) Khối lớp có nhiều lớp nhất và khối lớp.....có ít lớp nhất.

9*. Em đo rồi điền vào chỗ chấm cho thích hợp:

a) Lớp học em rộngbước chân.

b) Bàn giáo viên trong lớp em dài gang tay và rộng..... gang tay.

c) Mặt bàn trong lớp em dàigang tay và rộng..... gang tay.

d) Chân bàn học cao.....gang tay.

e) Bàn giáo viên.....bàn học.

CHỦ ĐỀ 2: SO SÁNH SỐ

1.

> ? = =	a) 1.....3	b) 1.....0	c) 9.....7
	d) 3.....6	e) 2.....4	g) 8.....8
	h) 3.....0	i) 5.....9	k) 8.....10
	l) 3.....8	m) 6.....6	n) 10.....0

2. Nói (theo mẫu):

5	>	
---	---	--

6	>	
---	---	--

4	5	8	7	6
---	---	---	---	---

7	<	
---	---	--

6	<	
---	---	--