

ĐỀ 1

KIỂM TRA HỌC KÌ I MÔN TOÁN

Họ và tên:.....

Thứ..... ngày..... thángnăm

Lớp

Nhận xét của giáo viên

.....

.....

I. Trắc nghiệm (5 điểm)

Câu 1(MĐ1). Đúng ghi Đ, sai ghi S (1 điểm)

$6 - 3 + 5 = 8$

$8 - 4 + 5 = 4$

Câu 2(MĐ1). Nối với số thích hợp (1 điểm)

$8 - 6 >$

$5 + 3 <$

Câu 3. (MĐ2). Cho dãy số: 1; 3;7; 9. Số điền vào chỗ chấm là: (1 điểm)

- A. 2
- B. 4
- C. 5
- D. 6

Câu 4. (MĐ2). Cho các số: 4; 2; 9; 0; 7; 1. (1điểm)

a) Xếp các số theo thứ tự từ bé đến lớn:

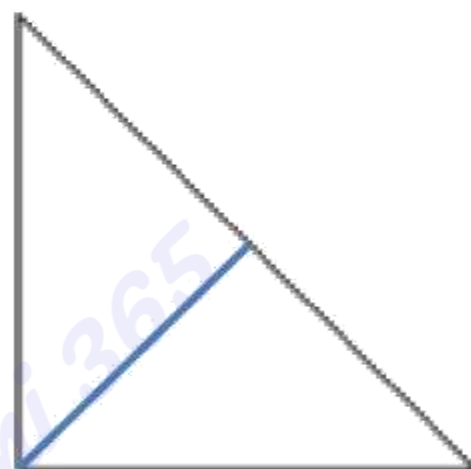
.....

b) Xếp các số theo thứ tự từ lớn đến bé:

.....

Câu 5. (MĐ2). Hình bên có mấy hình tam giác? (1 điểm)

- A. 2 hình tam giác
- B. 3 hình tam giác
- C. 4 hình tam giác



II. Tự luận (5 điểm)
Câu 1. (MĐ1). Tính (1 điểm)

$1 + 1 + 6 = \dots\dots$

$2 + 1 + 4 = \dots\dots$

$3 + 3 + 1 = \dots\dots$

$7 - 4 - 2 = \dots\dots$

$7 - 3 - 1 = \dots\dots$

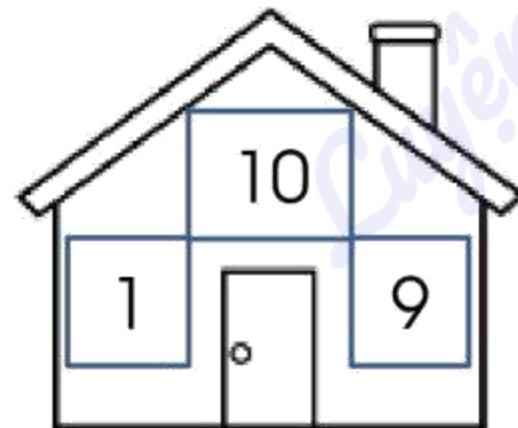
$7 - 1 - 2 = \dots\dots$

$1 + 5 + 2 = \dots\dots$

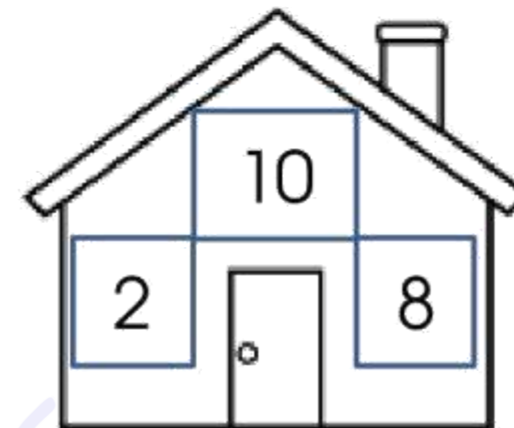
$7 - 6 - 1 = \dots\dots$

$4 + 2 + 0 = \dots\dots$

Câu 2. (MĐ2). Viết phép tính thích hợp để hoàn thành “ngôi nhà phép tính” (1 điểm)



	+		=	
	+		=	
	-		=	
	-		=	



	+		=	
	+		=	
	-		=	
	-		=	

Câu 3. (MĐ2). > , < , = ? (1 điểm)

$2 + 1 \dots 4 + 0$

$3 - 0 \dots 2 + 3$

Câu 4. (MĐ3). Viết phép tính thích hợp (1 điểm)



--	--	--	--	--



--	--	--	--	--



Câu 5. (MĐ3). Số? (1 điểm)

..... hình tam giác

