

BÀI TẬP PHÁT TRIỂN TƯ DUY CHO TRẺ

DAY BÉ SỰ NHẬN BIẾT SỰ GIỐNG NHAU VÀ KHÁC NHAU

Câu hỏi 1: Hãy tìm 5 điểm khác nhau của hai hình vẽ dưới đây



Câu hỏi 2. Hãy khoanh tròn hình bạn nhỏ có hành động không giống với hai bạn



Câu hỏi 3) Hãy khoanh tròn vị trí của hai chú cá trong bức tranh phía dưới.



Câu hỏi 4: Bé có biết các bạn nhỏ này cần ai phục vụ mình không? Hãy nối các hình vẽ thích hợp lại với nhau.




Câu hỏi 5. Hãy quan sát và cho biết, chú mèo nào câu được cá?



Câu hỏi 6: Hãy nối những con vật này với tổ của chúng.



Câu hỏi 7: Con vật nào có môi trường sống khác với các con vật còn lại?



Câu hỏi 8: Hãy quan sát và chỉ ra xem bạn gái đã quên mua thứ gì?



Câu hỏi 9: Hãy nói những chiếc lông với các chủ nhân của nó.






Câu hỏi 10: Hãy tìm ra xem đâu là bạn nhỏ trong bức ảnh



DẠY BÉ ÔN TẬP VỀ CÁC PHÉP TÍNH


1. Khoanh tròn những số nhỏ nhất

			
5 6	4 3	7 5	9 3

2. Khoanh tròn những con số lớn nhất

			
4 6	5 4	8 4	9 7

3. Điền những số thiếu vào ô trống

0		2		4
5		7		9

4. Khoanh tròn con số lớn nhất trong mỗi phần

3



7



9



6



8



2



5









4



5. Vẽ vòng tròn bao quanh mỗi loài động vật



6. Khoanh tròn con số đúng

 <p>2 1 3</p>	 <p>1 2 3</p>
 <p>3 2 1</p>	 <p>2 1 3</p>
 <p>3 1 2</p>	 <p>1 2 3</p>

7. Làm phép cộng



$$\begin{array}{ccc} 5 & + & 1 & = & 6 \\ \dots & & \dots & & \dots \end{array}$$



$$\dots + \dots = \dots$$



$$\dots + \dots = \dots$$



$$\dots + \dots = \dots$$