

**ĐỀ THI IKMC 2023 - Cấp độ 1**


Địa chỉ: Số 36 đường Nam Hồng, Đông Anh, Hà Nội.

Điện thoại: Cô Dung – 0985.635.685.

*Các con lưu ý đây không phải đề chính thức tại Việt Nam, đề chính thức chỉ có 18 câu trong 24 câu dưới đây.*

1. How many circles are there in the figure?

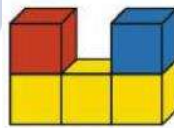
Trong hình có bao nhiêu hình tròn?







- (A) 5                      (B) 6                      (C) 7                      (D) 8                      (E) 9

2. The picture shows 5 cubes viewed from the front. What is the view from above?

Đây là hình ảnh khi nhìn 5 khối lập phương từ phía trước. Hỏi đâu là hình ảnh khi nhìn từ trên cao?

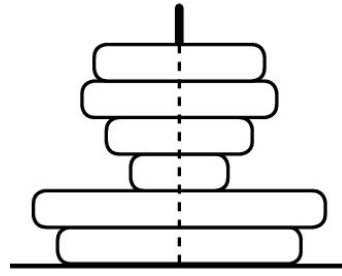


- (A)   
(D) 

- (B)   
(E) 

- (C) 

2.1. Theodor xếp các đồ chơi lại như hình vẽ. Hỏi khi nhìn từ trên xuống, bạn Theodor sẽ nhìn thấy bao nhiêu vòng?



(A) 1

(B) 2

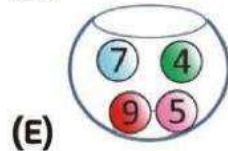
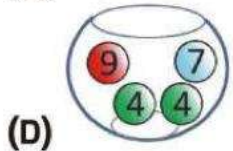
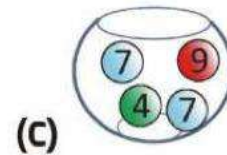
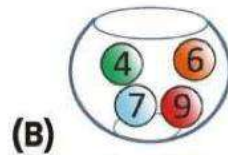
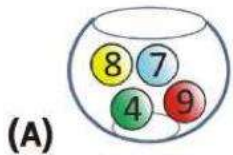
(C) 3

(D) 4

(E) 5

3. Each bowl contains four numbered balls. as shown. In which bowl is the sum of all the numbers largest?

Mỗi bình chứa bốn quả bóng được đánh số như hình vẽ. Hỏi bình nào có tổng các số lớn nhất?



M

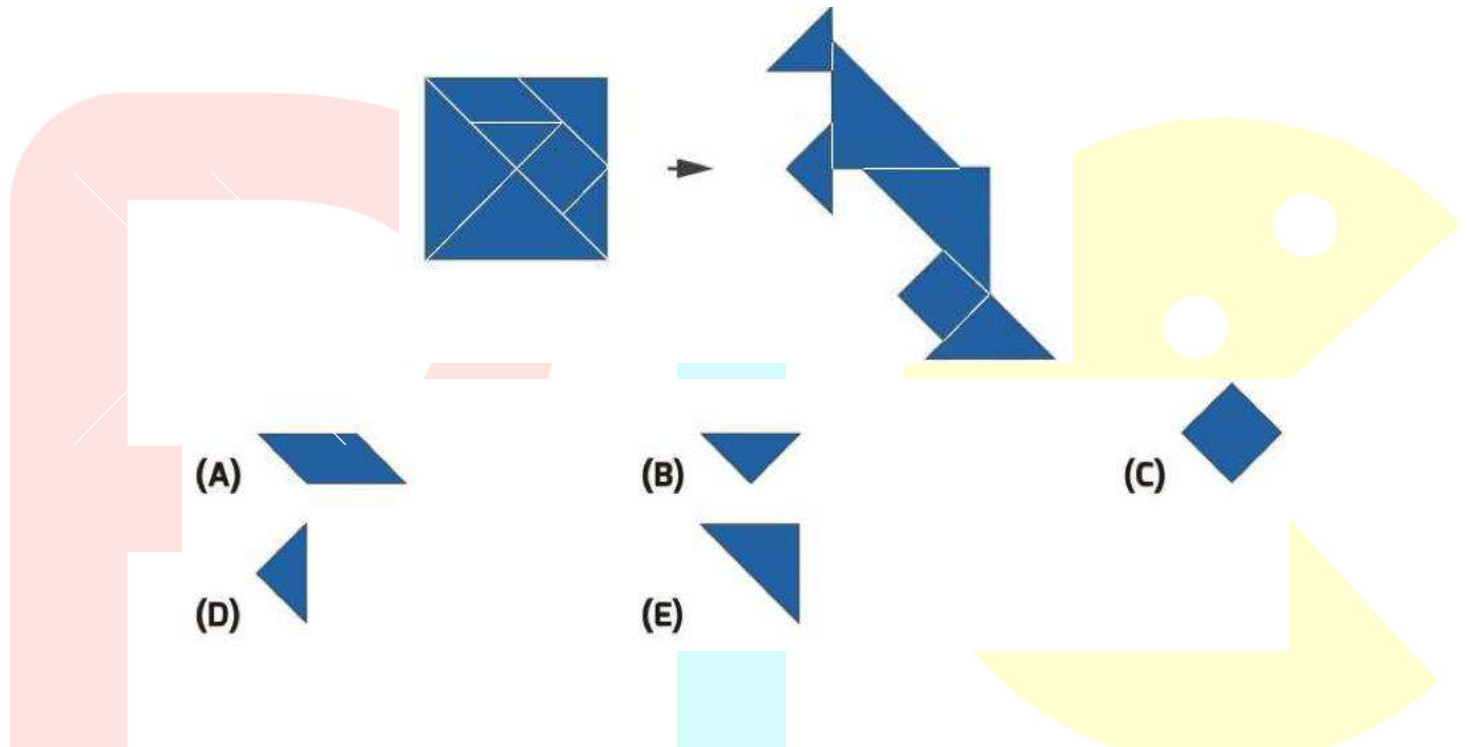
A

T

H

4. Mr. Beaver rearranges the pieces to make a kangaroo figure. Which piece is missing?

Ông Beaver sắp xếp lại các mảnh để tạo thành hình con chuột túi. Mảnh nào còn thiếu?



5. MV boat has more than 1 circle. It also has 2 more triangles than squares. Which boat is mine?

Thuyền MV có nhiều hơn 1 vòng tròn. Số hình tam giác nhiều hơn hình vuông là 2. Chiếc thuyền nào là thuyền MV?

