

20 ĐỀ THI HỌC KỲ I TOÁN LỚP 2

ĐỀ SỐ 1

Câu 1: Viết các số: (1 điểm)

48 , 29 , 37 , 63 , 81

a) Theo thứ tự từ bé đến lớn:

b) Theo thứ tự từ lớn đến bé:

Câu 2:(2 điểm)

a) Tính nhẩm:

$8 + 9 =$

$29 + 5 =$

$17 - 6 =$

$46 - 27 =$

b) Đặt tính rồi tính:

$68 - 39$

$35 - 28$

$27 + 64$

$77 + 8$

Câu 3: Tìm x: (2 điểm)

a) $x + 48 = 63$

c) $27 + x = 52$

b) $x - 24 = 16$

d) $x - 5 = 47$

Câu 4: Số ? (1 điểm)

a) $8 + 5 = 5 \square + 6$

c) $60 - \square = 5$

b) $17 - \square > 7$

d) $45 - 18 = 19 + \square$

Câu 5: Nối phép tính với kết quả đúng: (1 điểm)

$29 - 7$

$43 - 26$

58

17

33

22

$52 - 19$

$90 - 32$

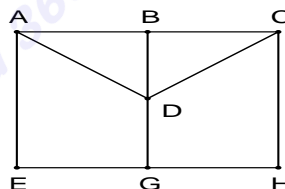
Câu 6: Xem tờ lịch dưới đây rồi viết tiếp vào chỗ chấm: (1 điểm)

	Th ứ hai	Th ứ ba	Th ứ tư	Th ứ nă m	Th ứ sáu	Th ứ bảy	Ch ủ nhậ t
			1	2	3	4	5
1	6	7	8	9	10	11	12
2	13	14	15	16	17	18	19
	20	21	22	23	24	25	26
	27	28	29	30	31		

- a) Trong tháng 12 có các ngày thứ sau là ngày
- b) Thứ bảy tuần này là ngày 18 tháng 12. Thứ bảy tuần trước là ngày tháng

Câu 7: Nhà chú Ba nuôi 100 con gà. Nhà cô Tư nuôi ít hơn nhà chú Ba 17 con gà. Hỏi nhà cô Tư nuôi bao nhiêu con gà? (1 điểm)

Câu 8: Trong hình vẽ bên: (1 điểm)



- a) Có hình tam giác
- b) Có hình tứ giác

ĐỀ SỐ 2

Câu 1: (2 điểm)

- a) Tính nhẩm:

$18 - 9 =$

$52l - 4l =$

$37 + 5 =$

$64l + 8l =$

- b) Đặt tính rồi tính:

$24 + 16$

$37 + 55$

$97 - 9$

$51 - 28$

Câu 2: Viết các số thích hợp vào ô trống: (1 điểm)

a) $65 + 16 = 16 \square$

c) $88 - \square = 80$

b) $\square + 9 = 9 + 23$

d) $100 - \square = 40$

Câu 3: (1 điểm)

Đ	?
S	

a) $11 \square 8 = 3$

c) $29 \square 9 = 38$

b) $9 \square 7 = 16$

d) $61 \square 5 = 56$

Câu 4: Năm nay bố em 45 tuổi, mẹ kém bố 6 tuổi. Hỏi mẹ em bao nhiêu tuổi? (1 điểm)

Câu 5: (1 điểm)

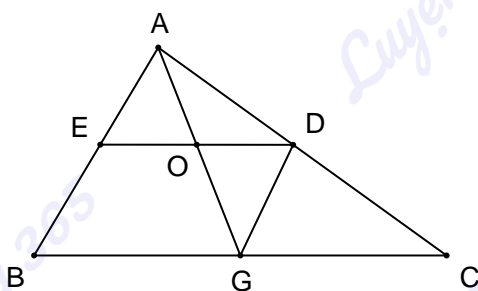
Xem tờ lịch tháng 9 rồi viết vào chỗ chấm:

	Th ứ hai	Th ứ ba	Th ứ tư	Th ứ năm	Th ứ sáu	Th ứ bảy	Ch ủ nhậ t
9		1	2	3	4	5	6
	7	8	9	10	11	12	13

	14	15	16	17	18	19	20
	21	22	23	24	25	26	27
	28	29	30				

- a) Ngày 5 tháng 9 là thứ
- b) Thứ tư tuần này là ngày 16 tháng 9. Thứ tư tuần trước là ngày
Thứ tư tuần sau là ngày
- c) Tháng 9 có ngày

Câu 6: Nêu tên ba điểm thẳng hàng có trong hình bên đây: (1 điểm)



Đ
S ?

- a) $35 + 35 - 19 = 52$
- b) $53 - 9 - 4 = 40$
- c) Một ngày có 24 giờ
- d) $2\text{dm}6\text{cm} = 30\text{cm} - 5\text{cm}$

Câu 7: (1 điểm)

Câu 8: Viết tiếp câu hỏi rồi giải bài toán. (2 điểm)

Bà có 23 quả táo, Bà cho Hoa 5 quả táo.

Hỏi

ĐỀ SỐ 3

Câu 1: (1 điểm)

- a) Viết các số: 94, 79, 25, 61, 54, 80 theo thứ tự từ lớn đến bé:
- b) Viết các số: 34, 85, 68, 19, 37, 73 theo thứ tự từ bé đến lớn:

Câu 2: (2 điểm)

a) Tính:

$19 - 5 - 7 =$

$5 + 27 - 6 =$

$63 - 4 - 8 =$

$25 + 9 - 6 =$

b) Đặt tính rồi tính:

$72 - 18$

$49 + 28$

$53 - 9$

$15 + 67$

Câu 3: (2 điểm)

>
<
=

?

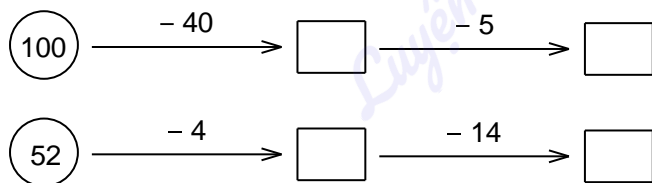
$63 - 56 \dots 7 + 0$

$32 + 17 \dots 64 - 8$

$13 + 38 \dots 52 - 9$


$12 - 3 \dots 17 - 9$

Câu 4: Số ? (1 điểm)




Câu 5: Nối mỗi câu với đồng hồ chỉ giờ thích hợp: (1 điểm)


Một quyển sách dày 91 trang, bạn Toàn đã đọc được 46 trang. Hỏi bạn Toàn còn phải đọc bao nhiêu trang nữa thì hết quyển sách? (1 điểm)




Em học ở trường lúc 9 giờ sáng



Bố em đi làm về lúc 17 giờ



Cả nhà em xem ti vi lúc 20 giờ



Mẹ em đi ngủ lúc 11 giờ đêm

Câu 6:

Một quyển sách dày 91 trang, bạn Toàn đã đọc được 46 trang. Hỏi bạn Toàn còn phải đọc bao nhiêu trang nữa thì hết quyển sách? (1 điểm)

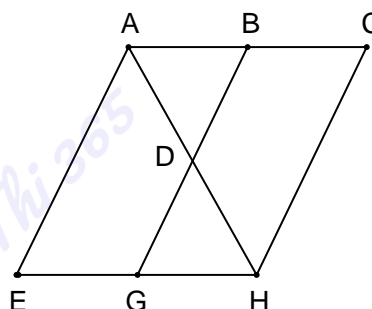
Câu 7: (2 điểm)

a) Vẽ 1 đường thẳng đi qua 2 điểm A, B



b) Hình vẽ bên:

- Có hình tam giác
- Có hình tứ giác



ĐI

Câu 1: Ghi kết quả tính (1 điểm):

$$64 - 57 - 3 =$$

$$15 + 35 - 21 =$$

$$49 + 5 - 28 =$$

$$32 - 17 - 2 =$$

Câu 2: Đặt tính rồi tính: (1 điểm)

$$53 - 44$$

$$14 + 79$$

$$100 - 18$$

$$21 + 39$$

Câu 3: Tìm x: (1 điểm)

a) $x - 7 = 39$

b) $43 - x = 15$

Câu 4: Nối hai phép tính có kết quả như nhau: (2 điểm)

$$94 - 37$$

$$100 - 58$$

$$29 + 13$$

$$28 + 23$$

$$45 + 6$$

$$62 - 7$$

$$73 - 18$$

$$86 - 29$$

Câu 5: (2 điểm)

a) Viết tiếp các ngày còn thiếu trong tờ lịch tháng 5 (có 31 ngày)

	Th ứ hai	Th ứ ba	Th ứ tư	Th ứ nă m	Th ứ sáu	Th ứ bảy	Ch ủ nhậ t
5						1	2
			5	6		8	9
	10	11			14		
		18	19	20			23
	31						

b) Xem tờ lịch trên rồi viết tiếp vào chỗ chấm:

- Ngày 19 tháng 5 là ngày thứ
- Thứ sáu tuần này là ngày 28 tháng 5. Thứ sáu tuần trước là ngày tháng

Câu 6: Nga xếp được 32 ngôi sao. Hằng xếp được ít hơn Nga 9 ngôi sao. Hỏi Hằng xếp được bao nhiêu ngôi sao? (1 điểm)

Câu 7: (1 điểm)